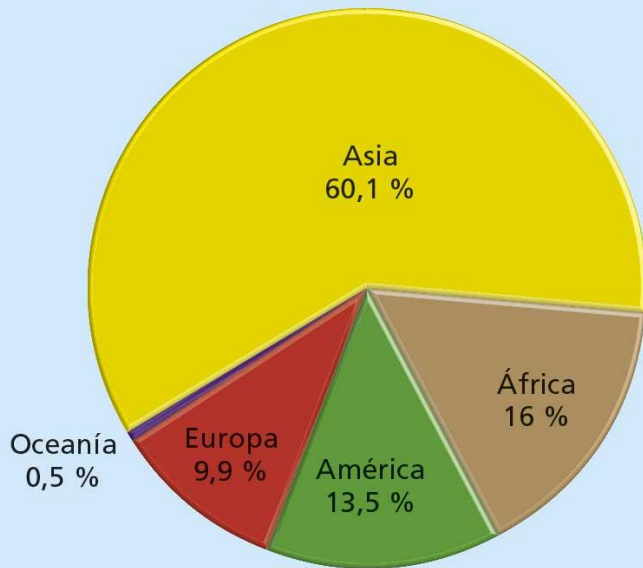


# UNIDAD FINAL . GEOGRAFÍA

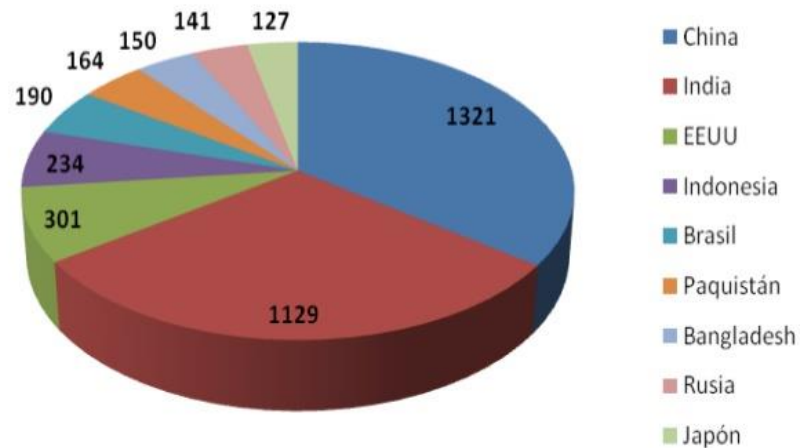


En 2019, la ONU publica que en el mundo hay unas 7.700 millones de personas.

#### DISTRIBUCIÓN DE LA POBLACIÓN POR CONTINENTES EN 2015



#### Países más poblados del mundo.



#### **Actividad 1**

Indica la población mundial en 219. Ordena los continentes de más a menos poblados.  
Ordena los 10 países de más a menos poblados

# Tema 1.-Los movimientos migratorios en la actualidad

## MOVIMIENTOS MIGRATORIOS

Las **MIGRACIONES** son los movimientos de la población, que implican un cambio de destino de la residencia habitual, desde un lugar de origen a otro de destino.

**EMIGRACIÓN:** Salida de población de un territorio a otro.

**INMIGRACIÓN:** Llegada de población procedente de otro territorio.

**SALDO MIGRATORIO:** Balance entre la inmigración y la emigración en un lugar determinado.

Si es **positivo**, la población aumenta; cuando es **negativo**, la población disminuye.

**SALDO MIGRATORIO: INMIGRANTES - EMIGRANTES**

## CAUSAS DE LOS MOVIMIENTOS MIGRATORIOS

### CAUSAS

DE LOS MOVIMIENTOS MIGRATORIOS

**ECONÓMICAS:** para buscar un mejor nivel de vida

**NATURALES:** terremotos, inundaciones, ...

**POLÍTICAS:** guerras, persecuciones, motivos ideológicos o raciales, ...

**RELIGIOSAS:** peregrinaciones, ...

**OCIOS:** períodos vacacionales, fines de semana, puentes, ...

## Actividad 2

(páginas del libro II 222, 223, 224, 225)

**Redactar el tema marcando las partes.**

**Introducción:** qué son los movimientos migratorios.

**Desarrollo:** causas, rutas y consecuencias.

**Conclusiones o Valoración crítica:** este tema es importante porque..., he aprendido...

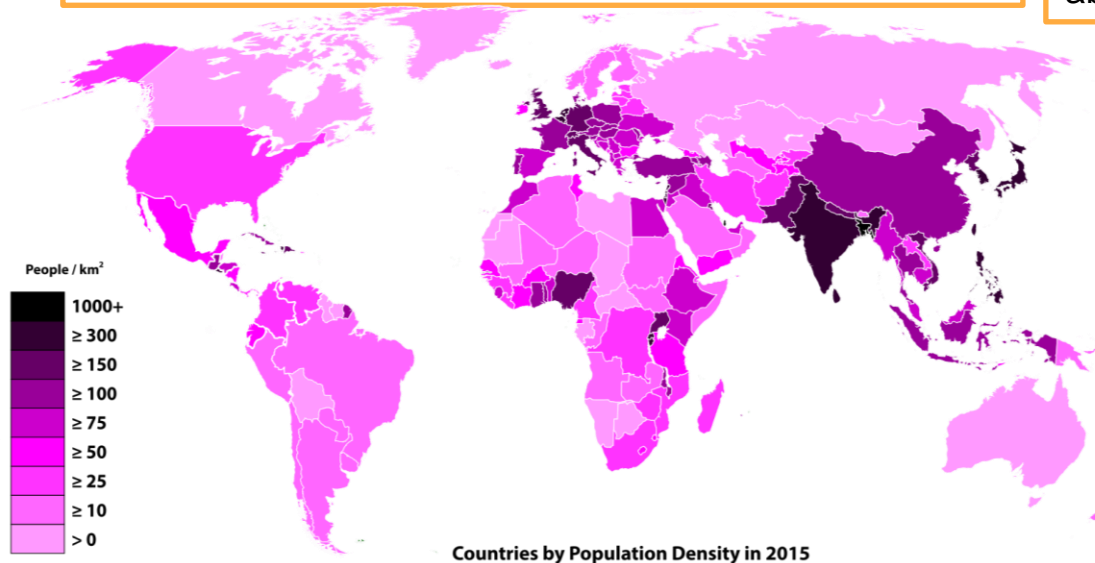


## 1.-Demografía (página 172)

Ciencia que estudia las poblaciones humanas, su estructura, evolución, comportamiento y características generales.

# Definiciones

2.Densidad de población: Población absoluta (hab.)/Superficie (km<sup>2</sup>) (página 173)

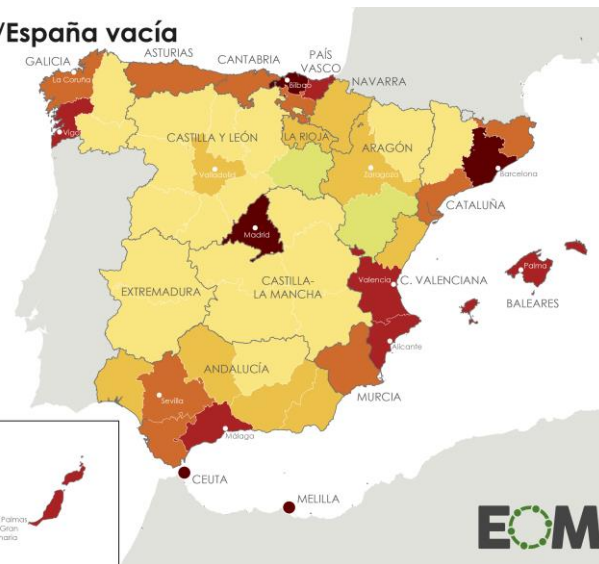


### España llena/España vacía Densidad de población



Cartografía:  
Abel Gil Lobo (2019)  
Fuente:  
INE (2018)

CANARIAS



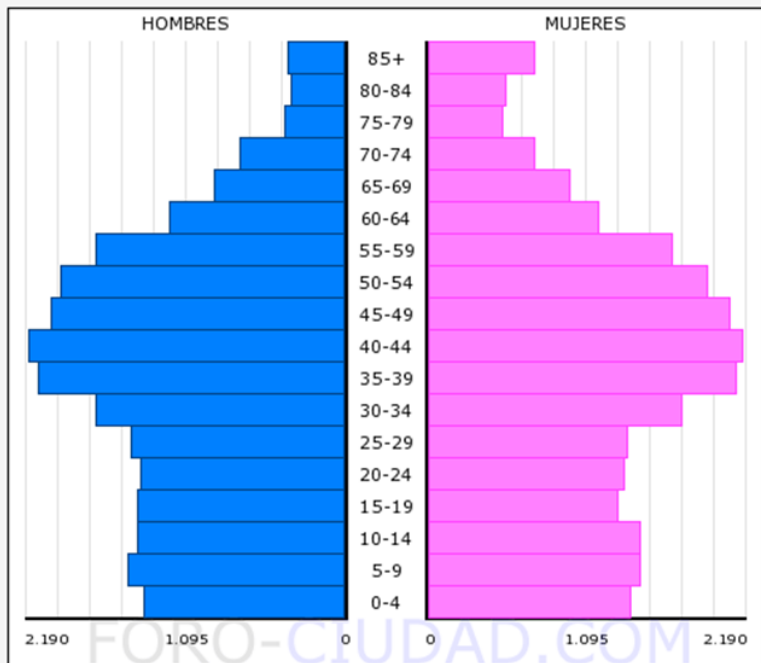
## Actividad 3

¿Qué países del mundo tienen la densidad de población más alta?  
¿Qué provincias españolas tienen la densidad de población más alta?



### 3.-Estructura de la población (página 176)

#### POBLACION - COLMENAR VIEJO - 2018



Poblacion Total en el Municipio: 49.498  
 Poblacion Hombres: 24.456  
 Poblacion Mujeres: 25.042

Fuente:INE , Grafico elaborado por FORO-CIUDAD.COM para todos los municipios de España

## TIPOS DE PIRÁMIDES



#### PROGRESIVA

- Natalidad alta y descontrolada.
- Mortalidad alta.
- Población joven.
- Países subdesarrollados.

#### EXPANSIVA

- Natalidad alta.
- Mortalidad controlada.
- Equilibrio entre los grupos de edad.
- Países en desarrollo.

#### REGRESIVA

- Natalidad baja.
- Alta esperanza de vida.
- Población envejecida.
- Países desarrollados.

#### Actividad 4 (IDAC)

#### Comenta la pirámide de población de Colmenar Viejo

(puedes encontrar ayuda en el libro, página 188)

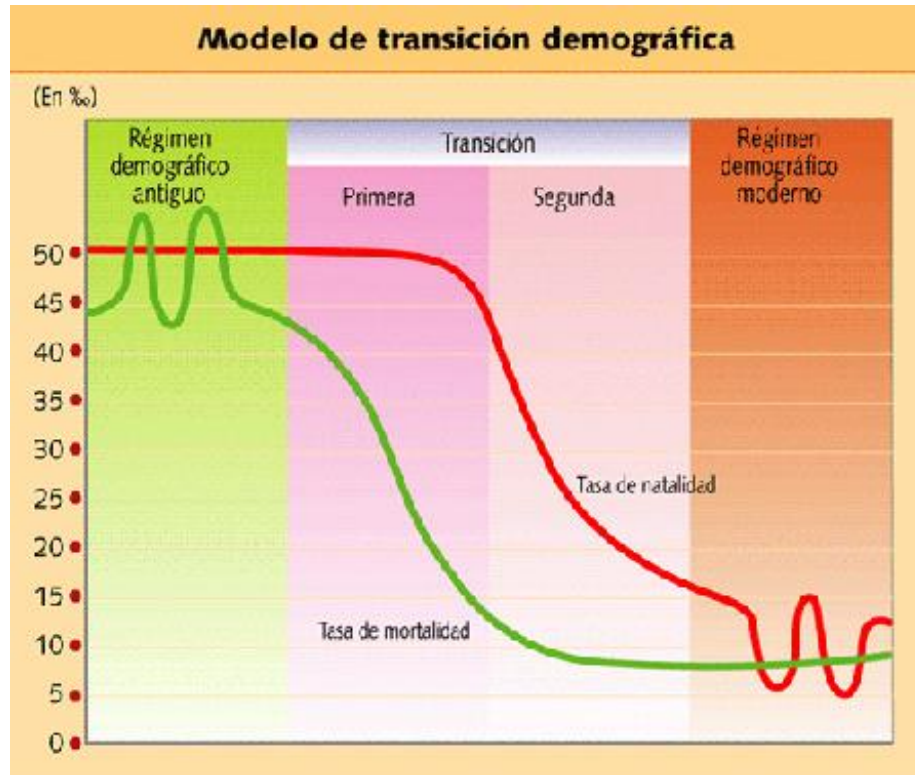
**1- Introducción:** título, dónde y cuándo. **2- Descripción:** Tipo (compara con los modelos del cuadro verde de la parte superior). **Describir la base:** niños y jóvenes ¿nacen muchos niños? ¿hay más jóvenes (15 a 20 años), que niños (0-14 años), que adultos o población activa (20-64 años)?). **Describe el tronco:** la población activa (20-64 años) ¿Hay mucha o poca, respecto a los otros grupos de edad? **Describe la cúspide:** tercera edad (+ 65). **Describe la proporción de hombres y mujeres** en cada grupo de edad. **3- Explicación:** Indica las características que se describen en tipo correspondiente del cuadro verde. Relaciona los entrantes (pérdida de población) y salientes (aumento de población) con acontecimientos significativos del pasado: crisis, bonanza económica, guerras... **4.- Conclusiones:** ¿Qué necesita Colmenar Viejo para el futuro: colegios, institutos, polígonos industriales, residencias de ancianos?

### **Actividad 5. Define estos conceptos**

4.- Crecimiento natural o vegetativo (página 180)

5.-Tasa de natalidad (página 180, 181)

6.-Tasa de mortalidad (página 180, 181)



## Actividad 6

### Comentario de mapa (IDAC)

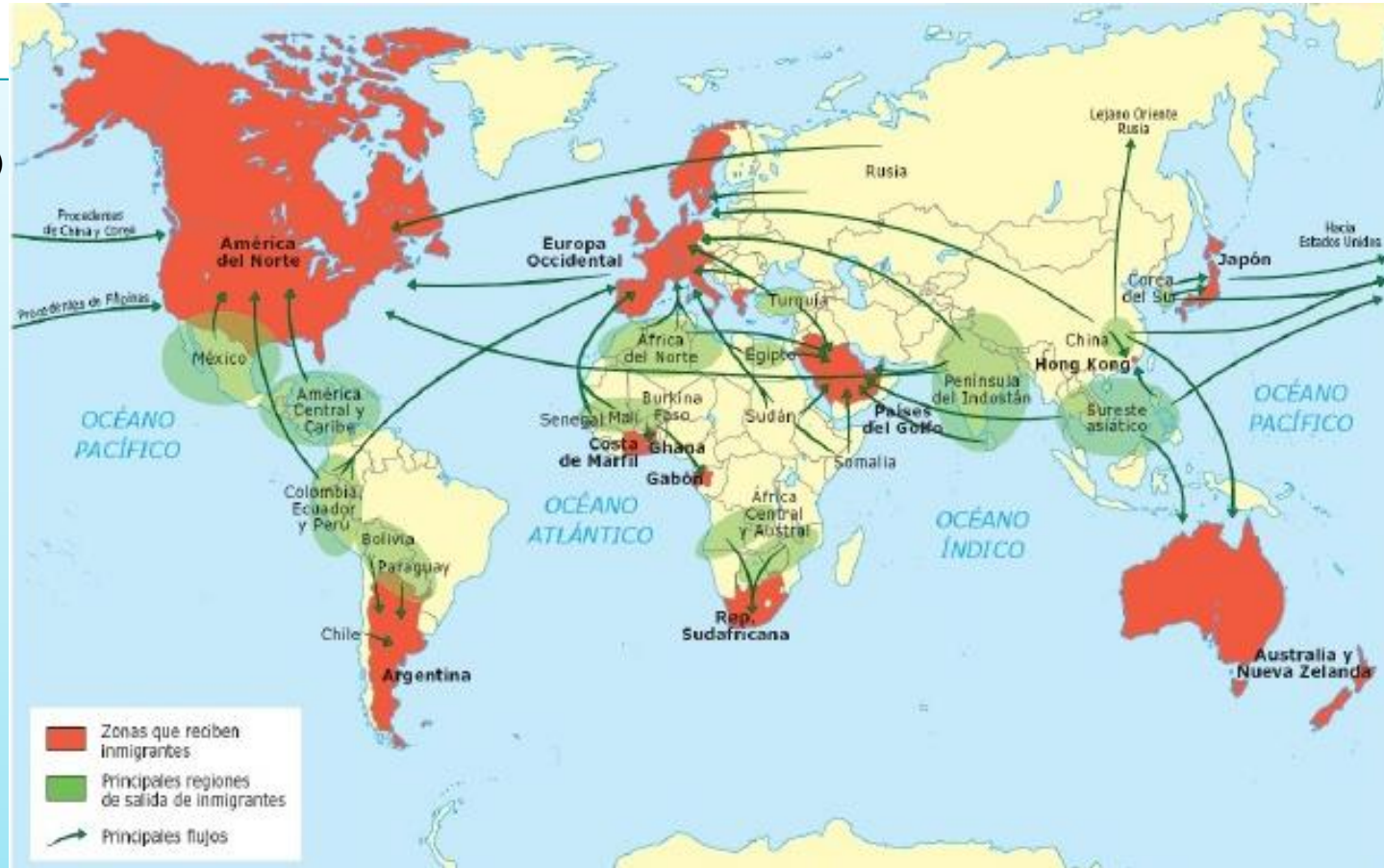
Mapa "rutas migratorias"  
(página 223)

**1- Introducción:** título, tipo de mapa, espacio, tiempo.

**2- Descripción** teniendo en cuenta la leyenda.

**3- Análisis o explicación.** Explica las causas de los movimientos migratorios.

**4- Conclusiones o Valoración crítica:** este mapa es importante porque..., he aprendido...



# Geografía urbana



¿Es una ciudad?



## Actividad 7

Responde **SI** o **NO** a estas preguntas

1. El número de habitantes es superior a 10.000 \_\_\_\_\_
2. La densidad de población es alta, supera 100 habitantes por Kilómetro cuadrado \_\_\_\_\_
3. La mayor parte de la población activa trabaja en el sector secundario (industria) y sector terciario (servicios) \_\_\_\_\_
4. El poblamiento es concentrado y destacan los edificios de más de dos alturas \_\_\_\_\_
5. Hay centros comerciales, hospitales, institutos \_\_\_\_\_
6. Presta servicios a las localidades de la zona \_\_\_\_\_
7. Tiene buenas comunicaciones con las localidades de su alrededor \_\_\_\_\_

**Si la mayoría de las respuestas son SI, Colmenar Viejo es una ciudad.**

# ¿Colmenar Viejo es pueblo o ciudad?



## **Actividad 8**

Ten en cuenta los criterios que se señalan debajo y explica por qué Colmenar Viejo es una ciudad

- **Criterios para definir una ciudad**

**1.- Tamaño. 2.- Estructura del empleo. 3.- Centro de comercio y servicios**

Criterios numéricos tamaño, densidad de población	Escandinavia	Australia	EEUU	España	Japón
Habitantes	200	500	2.500	10.000	30.000

Criterios socioeconómicos <b>Estructura del empleo</b>	población activa del sector secundario y terciario y un poblamiento concentrado
---	---

Criterios sociopolíticos y económicos	<b>Se ofrecen servicios a las localidades del entorno.</b>
---------------------------------------	--

La Morfología urbana es la forma que tiene el trazado de la ciudad

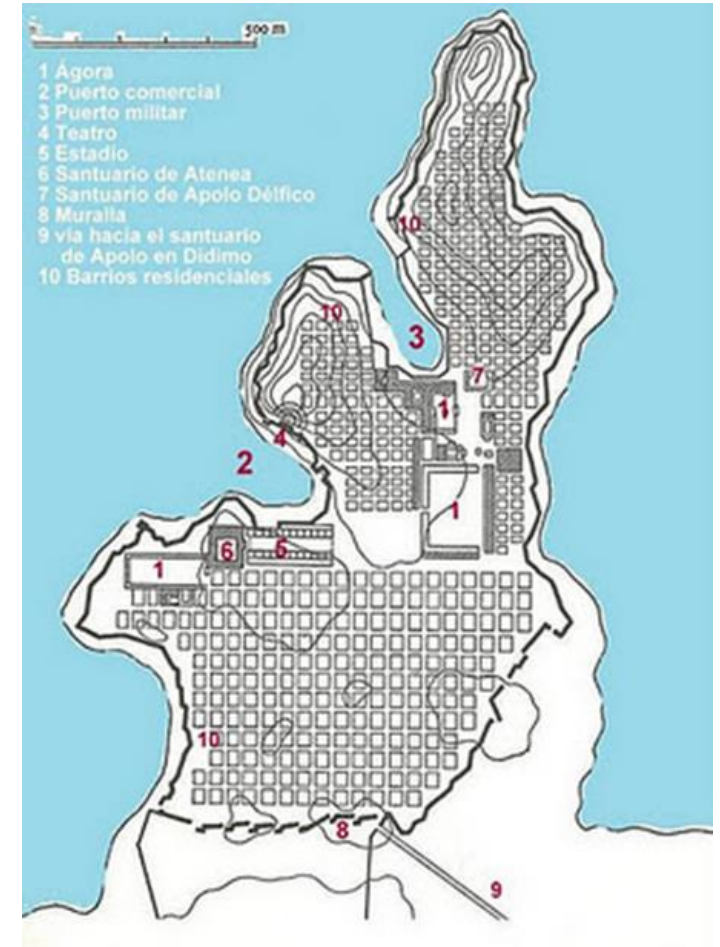


Ávila

Las ciudades medievales tenían un trazado **irregular** y estaban amuralladas.

### Actividad 9

Investiga que es un plano urbano **ortogonal** o **hipodámico**



Plano **ortogonal** de la ciudad griega de Mileto



# ESTUDIAMOS EL PLANO URBANO DE COLMENAR VIEJO



## Actividad 10

### **1.- La Morfología urbana**

¿En qué zona el trazado urbano es de forma irregular, y de forma ortogonal (calles rectas)?

### **2.- La estructura urbana**

¿Dónde se localiza el centro histórico?

¿Dónde se localizan las zonas de expansión urbana?

### **3.- Funciones urbanas en Colmenar viejo.**

Localiza las siguientes zonas:

- Función residencial
- Función industrial
- Función comercial
- Función política
- Función deportiva
- Función de negocios (CBD)





**Actividad para el cuaderno de vocabulario**

Elige 5 conceptos de esta unidad y haz el trabajo del cuaderno de vocabulario